



Razonamiento Matemático


Los tres cubiletes tienen 20 lápices.

12 son de color amarillo y el resto son de color naranja.

El  tiene en total 7, y 5 son de color amarillo

El  tiene al menos 1 amarillo

El  tiene tantos como el 

El  tiene 2 lápices amarillo menos que naranja

Lápices

