





# Ecuaciones Visuales Resuelve estos enigmas visuales.





 = 18


 = 9


 = 1


 = ?


 = 16


 = 11


 = 13


 = ?


 = 6


 = 22


 = 64


 = ?


 = 28


 = 17


 = 94


 = ?


 = 8


 = 28


 = 72

 = ?

 = 24

 = 21

 = 167

 = ?