





Razonamiento Matemático


Los tres cubiletes tienen 20 lápices.

8 son de color rojo y el resto son de color azul.

El  tiene en total 6, y 2 son de color rojo

El  tiene al menos 1 rojo

El  tiene 1 más que el 

El  tiene 3 lápices rojo más que azul

Lápices

