





## Razonamiento Matemático


Los tres cubiletes tienen 18 lápices.

9 son de color rojo y el resto son de color azul.

El  tiene en total 5, y 2 son de color rojo

El  tiene al menos 4 rojo

El  tiene 5 más que el 

El  tiene 1 lápiz rojo más que azul

Lápices

