



Razonamiento Matemático


Los tres cubiletes tienen 24 lápices.

11 son de color rosa y el resto son de color azul.

El  tiene en total 6, y 1 son de color rosa

El  tiene al menos 1 rosa

El  tiene tantos como el 

El  tiene tantos lápices rosa que azul

Lápices

