





Razonamiento Matemático


Los tres cubiletes tienen 19 lápices.

10 son de color naranja y el resto son de color azul.

El  tiene en total 6, y 4 son de color naranja

El  tiene al menos 2 naranja

El  tiene 1 más que el 

El  tiene 2 lápices naranja más que azul

Lápices

