





Razonamiento Matemático


Los tres cubiletes tienen 27 lápices.

16 son de color amarillo y el resto son de color rojo.

El  tiene en total 8, y 5 son de color amarillo

El  tiene al menos 4 amarillo

El  tiene 1 más que el 

El  tiene tantos lápices amarillo que rojo

Lápices



