

















Ecuaciones Visuales Resuelve estos enigmas visuales.











 = 24
 = 10
 = 16
 = ?

 = 8
 = 11
 = 12
 = ?

 = 2
 = 10
 = 61
 = ?

 = 24
 = 19
 = 35
 = ?

 = 8
 = 21
 = 58
 = ?

 = 12
 = 24
 = 193
 = ?