





## Razonamiento Matemático


Los tres cubiletes tienen 12 lápices.

5 son de color verde y el resto son de color rosa.

El  tiene en total 7, y 3 son de color verde

El  tiene al menos 1 verde

El  tiene 4 menos que el 

El  tiene tantos lápices verde que rosa

Lápices

