





Razonamiento Matemático

Los tres cubiletes tienen 20 lápices.

11 son de color rosa y el resto son de color rojo.

El  tiene en total 8, y 5 son de color rosa

El  tiene al menos 1 rosa

El  tiene 2 menos que el 

El  tiene 4 lápices rosa más que rojo

Lápices

